

## Puzzle de Marine (2)

Marine a réalisé ces quatre figures avec les six pièces du puzzle. Essaie de reconstituer ces figures.

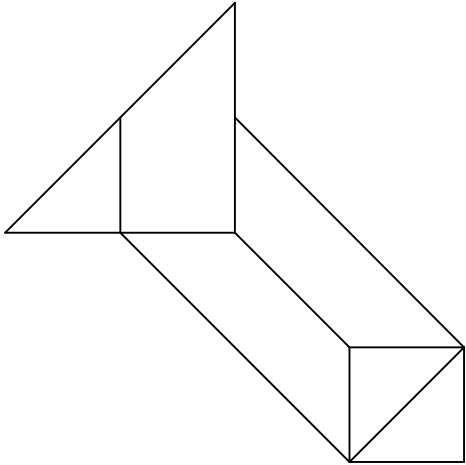


Figure 1

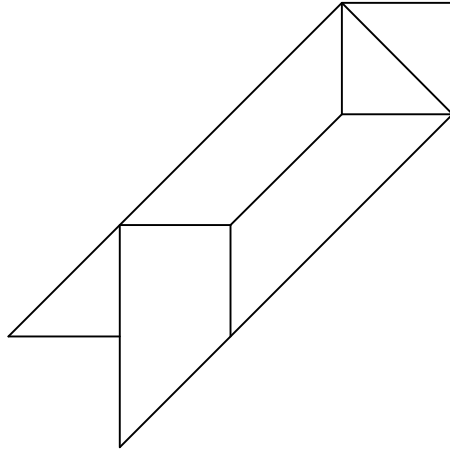


Figure 2

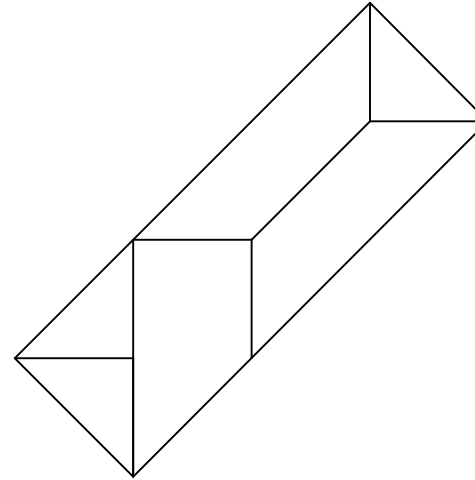


Figure 3

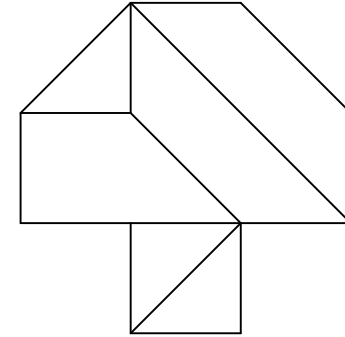


Figure 4

En reportant à l'aide du compas des longueurs sur les demi-droites ci-dessous, trouve les périmètres demandés.

**Périmètre de la figure 1**

←

**Périmètre de la figure 2**

←

**Périmètre de la figure 3**

←

**Périmètre de la figure 4**

←

Construis un rectangle-puzzle puis découpe-le et réalise une figure ayant plus grand périmètre possible. Colle ta solution sur ton cahier.