

Durée : 4 heures

∞ Baccalauréat S Nouvelle-Calédonie ∞

10 novembre 2011

EXERCICE 1

5 points

Commun à tous les candidats

Le plan complexe est muni d'un repère orthonormal direct (O, \vec{u}, \vec{v}) .
On prendra 1 cm pour unité graphique.

1. Résoudre dans \mathbb{C} l'équation $z^2 - 2z + 2 = 0$.
2. Soit A, B, C et D les points d'affixes respectives :

$$z_A = 1 + i ; \quad z_B = \overline{z_A} ; \quad z_C = 2z_B ; \quad z_D = 3.$$

Construire une figure et la compléter tout au long de l'exercice.

3. Montrer que les trois points A, B et C appartiennent à un même cercle de centre D dont on précisera le rayon.
4. Calculer $\frac{z_C - 3}{z_A - 3}$. En déduire la nature du triangle DAC.
5. *Dans cette question, toute trace de recherche, même incomplète, ou d'initiative même non fructueuse, sera prise en compte dans l'évaluation.*

On note h l'homothétie de centre D et de rapport 2. On note r la rotation de centre D et d'angle $\frac{\pi}{2}$. On appelle C' l'image de C par h et C'' l'image de C' par r .

Montrer que les droites (AC) et $(C'C'')$ sont perpendiculaires.

EXERCICE 2

5 points

Commun à tous les candidats

1. Soit f la fonction définie sur $]0; +\infty[$ par :

$$f(x) = \ln\left(1 + \frac{1}{x}\right) - x.$$

- a. Déterminer les limites de la fonction f en 0 et en $+\infty$.
 - b. Montrer que la fonction f est strictement décroissante sur $]0; +\infty[$.
 - c. Montrer qu'il existe un unique réel α appartenant à $]0; +\infty[$ tel que $f(\alpha) = 0$.
Déterminer une valeur approchée de α à 10^{-3} près.
2. Soit g la fonction définie sur $]0; +\infty[$ par : $g(x) = \ln\left(1 + \frac{1}{x}\right)$.
La suite $(u_n)_{n \in \mathbb{N}}$ est définie par $u_0 = 1,5$ et pour tout entier naturel n :

$$u_{n+1} = g(u_n) = \ln\left(1 + \frac{1}{u_n}\right).$$

On a représenté en **annexe 1 (à rendre avec la copie)** la courbe \mathcal{C} représentative de la fonction g et la droite d'équation $y = x$.

a. Construire sur l'axe des abscisses, en laissant les traits de construction apparents, les cinq premiers termes de la suite $(u_n)_{n \in \mathbb{N}}$

b. Le graphique permet-il d'émettre les conjectures suivantes?

On recopiera sur la copie le numéro de la conjecture suivie de OUI ou NON.

Aucune justification n'est demandée.

- Conjecture n° 1 : « la suite $(u_n)_{n \in \mathbb{N}}$ est monotone. »
- Conjecture n° 2 : « la suite $(u_n)_{n \in \mathbb{N}}$ est minorée par 0,5. »
- Conjecture n° 3 : « la suite $(u_n)_{n \in \mathbb{N}}$ converge vers 1. »

c. On admet que la suite $(u_n)_{n \in \mathbb{N}}$ est convergente vers une limite ℓ strictement positive.

Montrer que $\ln\left(1 + \frac{1}{\ell}\right) = \ell$.

d. Montrer que $\ell = \alpha$.

EXERCICE 3

5 points

Commun à tous les candidats

Une grande entreprise dispose d'un vaste réseau informatique. On observe le temps de fonctionnement normal séparant deux pannes informatiques. Ce temps sera appelé « temps de fonctionnement ». Soit X la variable aléatoire égale au temps de fonctionnement, exprimé en heures.

On admet que X suit une loi exponentielle de paramètre λ . Le paramètre λ est un réel strictement positif.

On rappelle que, pour tout réel $t \geq 0$, $P(X \leq t) = \int_0^t \lambda e^{-\lambda x} dx$.

1. On sait que la probabilité que le temps de fonctionnement soit inférieur à 7 heures est égale à 0,6.

Montrer qu'une valeur approchée de λ à 10^{-3} près est 0,131.

Dans les questions suivantes, on prendra 0,131 pour valeur approchée de λ et les résultats seront donnés à 10^{-2} près.

2. Montrer qu'une valeur approchée de la probabilité que le temps de fonctionnement soit supérieur à 5 heures est égale à 0,52.

3. Calculer la probabilité que le temps de fonctionnement soit supérieur à 9 heures sachant qu'il n'y a pas eu de panne au cours des quatre premières heures.

4. Calculer la probabilité que le temps de fonctionnement soit compris entre 6 et 10 heures.

5. On relève aléatoirement huit temps de fonctionnement, qu'on suppose indépendants. Soit Y la variable aléatoire égale au nombre de relevés correspondant à des temps de fonctionnement supérieurs ou égaux à 5 heures.

- a. Quelle est la loi suivie par Y?
- b. Calculer la probabilité que trois temps parmi ces huit soient supérieurs ou égaux à 5 heures.
- c. Calculer l'espérance mathématique de Y (on arrondira à l'entier le plus proche).

EXERCICE 4**5 points****Candidats n'ayant pas choisi l'enseignement de spécialité**

L'espace est rapporté à un repère orthonormal $(O, \vec{i}, \vec{j}, \vec{k})$.

On considère les points : A(0; 0; 2), B(0; 4; 0) et C(2; 0; 0).

1.
 - a. Vérifier qu'une équation du plan (ABC) est : $2x + y + 2z = 4$.
 - b. Calculer la distance du point O au plan (ABC).
2.
 - a. Déterminer une équation du plan P passant par A et orthogonal à la droite (BC).
 - b. Soit Δ la droite intersection du plan P et du plan (ABC). Déterminer une représentation paramétrique de la droite Δ . Quel rôle joue cette droite dans le triangle ABC?
3.
 - a. Soit Δ' la médiane issue de B du triangle ABC.
Montrer qu'une équation paramétrique de Δ' dans le triangle ABC est :

$$\begin{cases} x = t \\ y = 4 - 4t \\ z = t \end{cases} \quad t \in \mathbb{R}.$$

- b. Montrer que le triangle ABC est un triangle isocèle.
4. Soit H le point d'intersection des droites Δ et Δ' . Montrer que le point H a pour coordonnées $\left(\frac{8}{9}; \frac{4}{9}; \frac{8}{9}\right)$.
Que représente le point H pour le triangle ABC?
 5. Montrer que le point H est le projeté orthogonal du point O sur le plan (ABC). Retrouver alors la distance du point O au plan (ABC).

EXERCICE 4**5 points****Candidats ayant choisi l'enseignement de spécialité**

L'espace est rapporté à un repère orthonormal $(O, \vec{i}, \vec{j}, \vec{k})$.

On considère la surface S d'équation : $x^2 + y^2 - z^2 = 4$.

1.
 - a. Montrer que si le point $M(x; y; z)$ appartient à S alors le point $M'(-x; -y; -z)$ appartient aussi à S. Que peut-on en déduire?
 - b. Montrer que la surface S est symétrique par rapport au plan (xOy). On admet de même que la surface S est symétrique par rapport aux plans (xOz) et (yOz).
2.
 - a. Déterminer la nature géométrique de la section de la surface S par le plan (xOy). Préciser ses éléments caractéristiques.

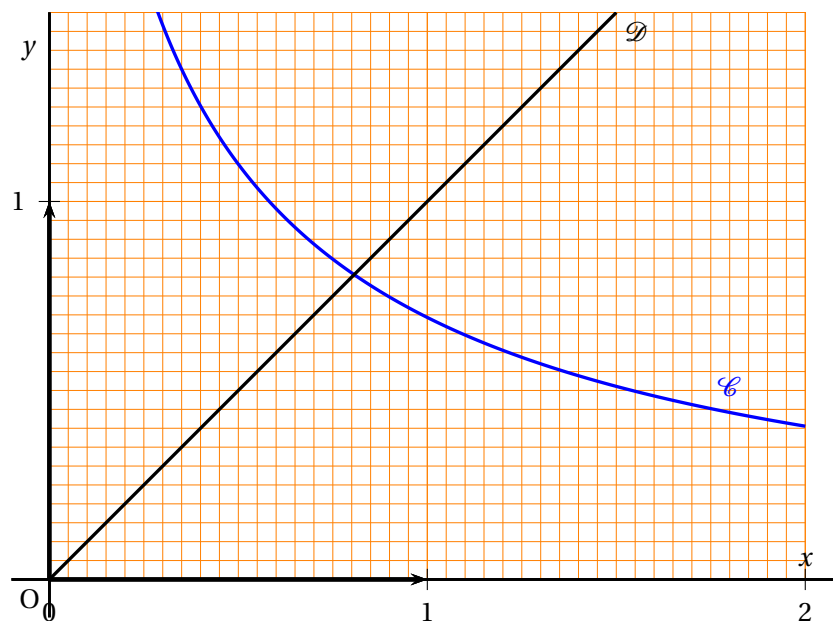
- b.** Soit k un réel non nul. Déterminer la nature géométrique de la section de la surface S par le plan d'équation $z = k$. Préciser ses éléments caractéristiques.
- 3.** Déterminer la nature géométrique de la section de la surface S par le plan d'équation $y = 2$.
- 4.** On considère les points $A(2\sqrt{2}; 0; 2)$ et $B(0; 2\sqrt{2}; -2)$.
- a.** Déterminer une représentation paramétrique de la droite (AB) .
- b.** La droite (AB) est-elle contenue dans la surface S ?
- 5.** Identifier parmi les trois figures proposées en **annexe 2** celle qui représente la surface S .
Le candidat indiquera sur sa copie le numéro de la figure et justifiera la réponse.
- 6.** Soit H la section de la surface S par le plan P d'équation $y = 5$.
- a.** Montrer qu'un point $M(x; y; z)$ appartient à H si et seulement si $(x - z)(x + z) = -21$ et $y = 5$.
- b.** En déduire les coordonnées des points de H dont les coordonnées sont des entiers relatifs.

ANNEXE 1

Commun à tous les candidats

(À rendre avec la copie)

Exercice 2



ANNEXE 2

Candidats ayant suivi l'enseignement de spécialité

Exercice 5

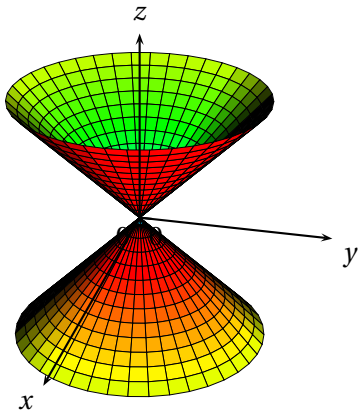


Figure 1

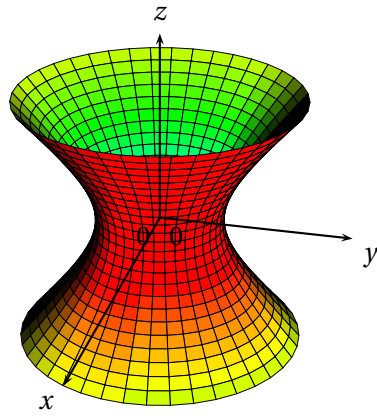


Figure 2

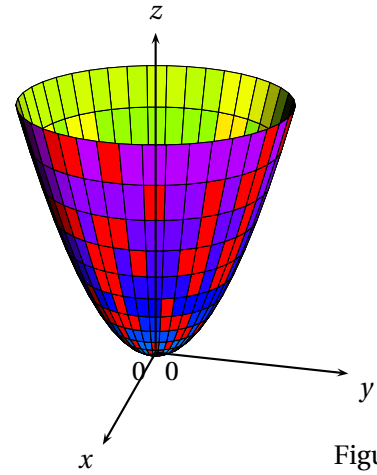


Figure 3